

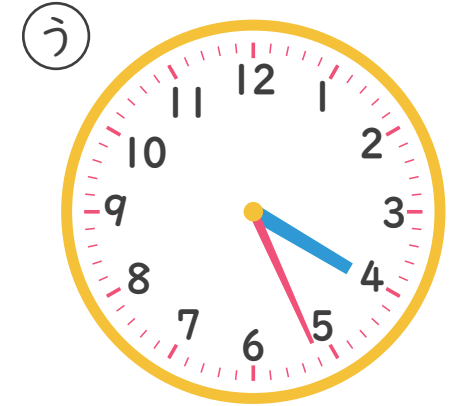



# なんじ なんぷん

## ただしい とけいを こたえましょう 2 (2)

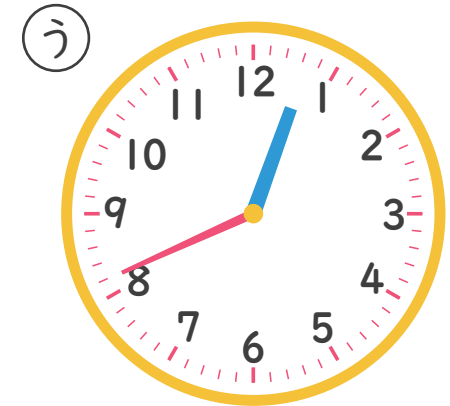
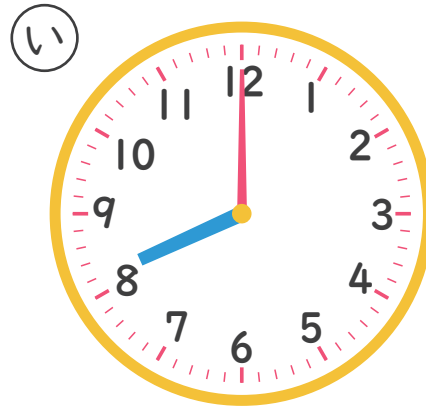
ねん      くみ    なまえ

1 4じ26ぷんの とけいは どれですか。



こたえ \_\_\_\_\_

2 12じ41ぷんの とけいは どれですか。



こたえ \_\_\_\_\_